
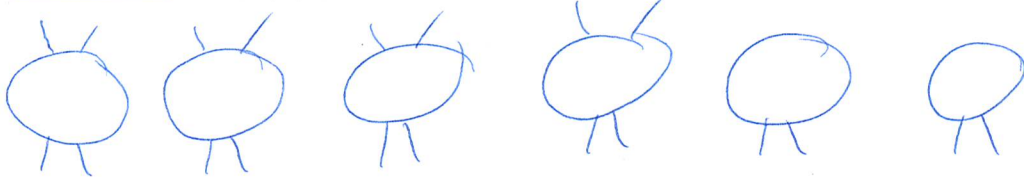


„Tierische“ Aufgaben (zu ZB4, s. 75)




Im Streichelzoo sind <sup>4 Beine</sup> Ziegen und <sup>2 Beine</sup> Enten. Es sind sechs Tiere. Leon zählt 20 Beine. Wie viele Ziegen und wie viele Enten sind es?



Im Stall sind <sup>4 Beine</sup> Pferde und <sup>8 Beine</sup> Spinnen. Zusammen haben sie 68 Beine. Lea zählt 11 Tiere. Wie viele Pferde und wie viele Spinnen sind es?

Im Stall sind Schweine und Fliegen. Otto zählt 15 Tiere. Zusammen haben sie 72 Beine. Wie viele Schweine und wie viele Fliegen sind es?



Auf der Weide sind 19 Tiere. Es sind Kühe und Hühner. Zusammen haben sie 58 Beine. Wie viele Kühe und wie viele Hühner sind es?

